



6年生 ようこそ「うまい寿司」へ①

～ 間違いなく選び方を求めよう ～


6年 名前 _____




サーモン



マグロ



エビ



玉子



いくら

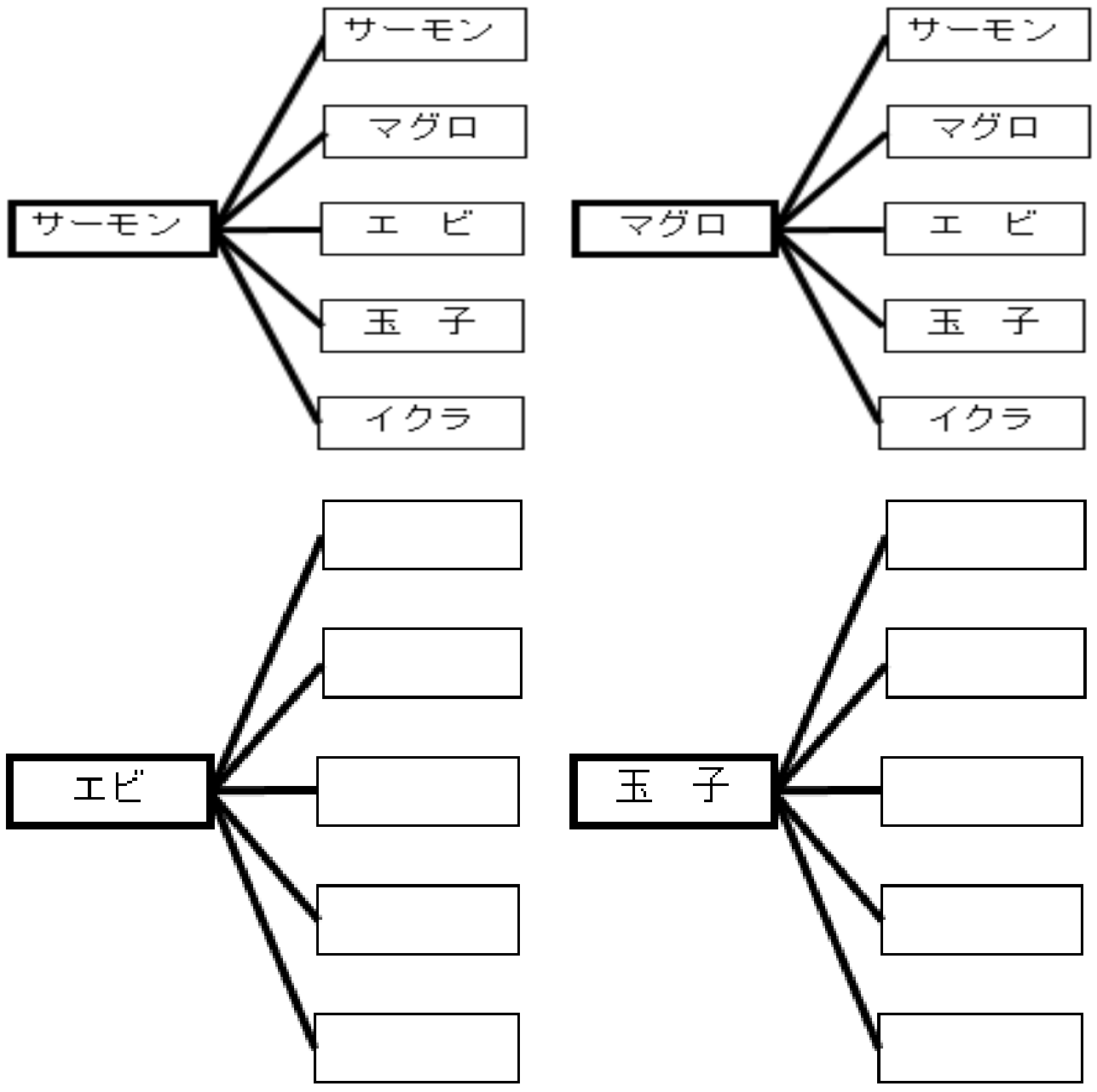
【表し方・表1】

サーモン	マグロ	エビ	玉子	いくら

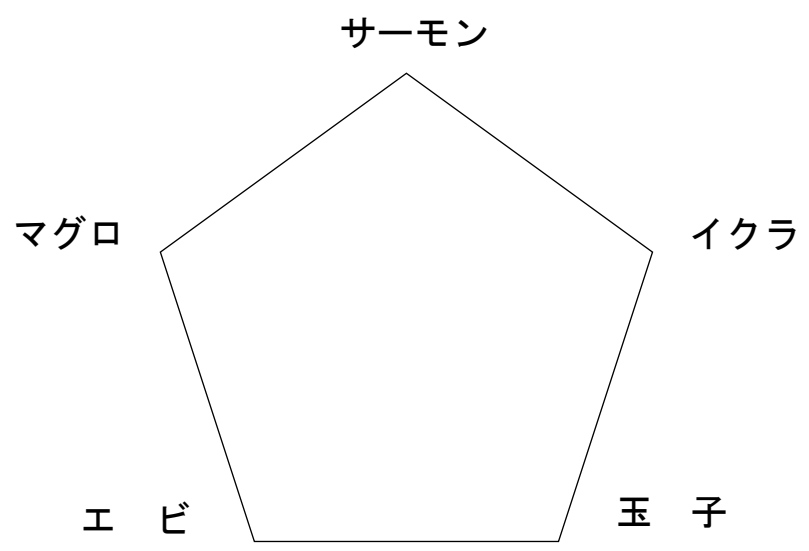
【表し方・表2】

	サーモン	マグロ	エビ	玉子	いくら
サーモン					
マグロ					
エビ					
玉子					
いくら					

【表し方・図1】



【表し方・図2】



【発展問題 1】

5種類のお寿司から3種類を取る選び方は、全部で何通りありますか？ただし、同じものは2つ取れません。

学習した表し方を参考にして、答えを求めましょう。

【発展問題 2】

5種類のお寿司から4種類を取る選び方は、全部で何通りありますか？ただし、同じものは2つ取れません。

学習した表し方を参考にして、答えを求めましょう。

【発展問題 3】

5種類のお寿司から5種類を取る選び方は、全部で何通りありますか？ただし、同じものは2つ取れません。

学習した表し方を参考にして、答えを求めましょう。

【予告】 次回は、選んだお寿司の食べる順番も考えてみましょう！